

香港海事博物館 活動工作紙




HONG KONG
maritime
museum
香港海事博物館

廣州貿易與鴉片戰爭(C2 展廳)

因為此層的展品比較舊，所以燈光光度與溫度都被調低。

1

這個屏風繪有廣州城的景象。
試試將畫上的其中一座建築物繪畫出來。




廣州是當時唯一對外開放的港口，所以對於中國來說
是十分重要的。

〈如果你可在屏風旁的展板上找到建築物的名稱的話，請填上。〉

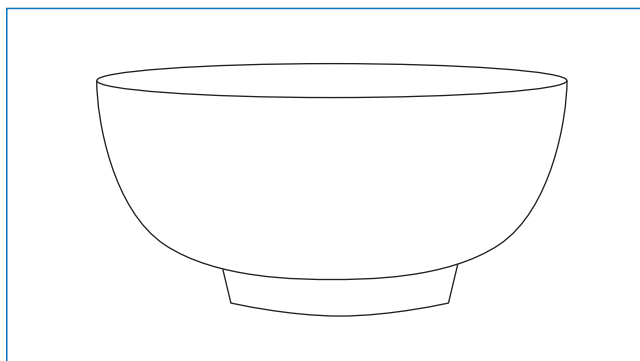
看看屏風側的展櫃。你能看見一些如匕首、劍和火槍等
武器嗎？為什麼當年的貨船都備有武器呢？

船上的紀錄簿詳細紀錄了船隻的航行細節，對後世的歷史學家極為重要。

2



這本紀錄簿屬於一艘 _____ 公司的船。



當時，很多人買這類型的碗作紀念品。為以上的瓷器創作出新的花紋吧。你可以在展廳的其他展品中找到靈感。

早期，歐洲商人不能進廣州城居住。請圈出原因。

- a. 城內物價高昂，他們沒有足夠的資金。
- b. 廣州已十分擠迫。
- c. 清廷不許外商與當地居民隨意接觸。

展櫃中的兩把扇子上都繪有當年十三行的景象。十三行就是廣州城外洋商居住的地方。


3 扇子上的旗幟代表着什麼國家？試寫出一個。

在右邊的扇子上，背景有什麼特色建築呢？

當時與中國人做生意的歐洲人用一種貴金屬附款。你知道是什麼嗎？請圈出答案。

- a. 金
- b. 銀
- c. 銅

它還可以被製成餐具。試試在以下的方格內把其中一樣畫出來。



中國製造的產品在歐洲的需求很大。金錢都從歐洲流入中國去了。另一方面，中國人又對歐洲人所售賣的哪種產品為之雀躍呢？試從以下的格子中找出答案。

瓷	布	疋	香
器	鴉	碗	料
書	片	船	隻
藉	皮	革	竹

細看「浩官」的肖像。他的外表和居住環境跟我們的有什麼不同？請舉三例。

髮型： _____

服飾： _____

傢俬： _____

Cutty Sark是一艘可以快速往來歐亞二洲的疾速帆船，主要運載的貨物是茶。它有多少塊帆呢？數數看。帆的數目讓它航行得更迅速。一直以來，茶都是很受歡迎的飲品。商人越能把茶越快運到目的地，錢便能賺得越多。

4 除了帆的數目外，Cutty Sark還有什麼設計上的特色令它可以這樣迅速地行駛呢？



Cutty Sark model

試找出用來存放茶葉的漆盒。為什麼它們都有鑰匙孔呢？

如果不用來存放茶葉，你會用來放些什麼呢？